
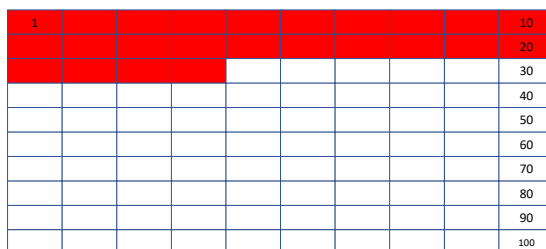



Colora in rosso le caselle del numero in rosso, poi colora in blu e conta le caselle rimanenti. Scrivi nella casella il numero che hai trovato. Ricorda che ogni riga è formata da 10 unità.




$$44 + 56 = 100$$




$$24 + \underline{\quad} = 100$$




$$34 + \underline{\quad} = 100$$




$$78 + \underline{\quad} = 100$$




$$28 + \underline{\quad} = 100$$



$$56 + \underline{\quad} = 100$$



$$87 + \underline{\quad} = 100$$



$$67 + \underline{\quad} = 100$$

Colora in rosso le caselle del numero in rosso, poi colora in blu e conta le caselle rimanenti. Scrivi nella casella il numero che hai trovato. Ricorda che ogni riga è formata da 10 unità.

1										10
										20
										30
										40
										50
										60
										70
										80
										90
										100

$$9 + \underline{\quad} = 100$$

1										10
										20
										30
										40
										50
										60
										70
										80
										90
										100

$$77 + \underline{\quad} = 100$$

1										10
										20
										30
										40
										50
										60
										70
										80
										90
										100

$$49 + \underline{\quad} = 100$$

1										10
										20
										30
										40
										50
										60
										70
										80
										90
										100

$$23 + \underline{\quad} = 100$$

1										10
										20
										30
										40
										50
										60
										70
										80
										90
										100

$$39 + \underline{\quad} = 100$$

1										10
										20
										30
										40
										50
										60
										70
										80
										90
										100

$$97 + \underline{\quad} = 100$$

1										10
										20
										30
										40
										50
										60
										70
										80
										90
										100

$$42 + \underline{\quad} = 100$$

1										10
										20
										30
										40
										50
										60
										70
										80
										90
										100

$$82 + \underline{\quad} = 100$$

Colora in rosso le caselle del numero in rosso, poi colora in blu e conta le caselle rimanenti. Scrivi nella casella il numero che hai trovato. Ricorda che ogni riga è formata da 10 unità.

1										10
										20
										30
										40
										50
										60
										70
										80
										90
										100

$$14 + \underline{\quad} = 100$$

1										10
										20
										30
										40
										50
										60
										70
										80
										90
										100

$$31 + \underline{\quad} = 100$$

1										10
										20
										30
										40
										50
										60
										70
										80
										90
										100

$$59 + \underline{\quad} = 100$$

1										10
										20
										30
										40
										50
										60
										70
										80
										90
										100

$$91 + \underline{\quad} = 100$$

1										10
										20
										30
										40
										50
										60
										70
										80
										90
										100

$$73 + \underline{\quad} = 100$$

1										10
										20
										30
										40
										50
										60
										70
										80
										90
										100

$$85 + \underline{\quad} = 100$$

1										10
										20
										30
										40
										50
										60
										70
										80
										90
										100

$$61 + \underline{\quad} = 100$$

1										10
										20
										30
										40
										50
										60
										70
										80
										90
										100

$$52 + \underline{\quad} = 100$$